

ВСЕРОССИЙСКАЯ ОЛИМПИАДА ШКОЛЬНИКОВ ПО ИСТОРИИ.
МУНИЦИПАЛЬНЫЙ ЭТАП



7 КЛАСС

Максимальное количество баллов – 100

В данной части необходимо ответить на вопросы
Выберите один правильный ответ и обведите его кружком.
Каждый правильный ответ оценивается в 1 балл.

1. Прочитайте отрывок и укажите источник, фрагментом которого он является.

«А христианом отказыватись из волости в волость и из села в село один срок в году: за неделю до Юрьева дни до осеннего и неделя по Юрьеве дни осеннем. А дворы пожилые платят в поле рубль и два алтына, а в лесех, где десять вёрст до хоромного лесу, за двор полтина и два алтына».

- а) Соборное Уложение
- б) Судебник Ивана IV
- в) «Домострой»
- г) Русская правда

0

2. Какое событие произошло в период существования Древнерусского государства?

- а) создание стрелецкого войска
- б) введение единой общерусской монеты
- в) учреждение уроков и погостов
- г) созыв первого Земского собора

1

3. Основной тенденцией политического развития России в XVII веке стало

- а) начало формирования абсолютной монархии
- б) принятие законов, ограничивающих власть царя
- в) развитие представительных органов власти – Земских соборов и Боярской думы
- г) борьба за отмену крепостного права

1

4. Смоленск в VIII-IX вв. стал главным городом племени

- а) кривичей
- б) древлян
- в) дреговичей
- г) полян

0

Выберите несколько правильных ответов и обведите их кружком.
Каждый правильный ответ оценивается в 3 балла.



5. Отметьте, с кем воевало Московское великое княжество в 1481-1533 гг.

- а) Золотая Орда;
- б) Литва;
- в) Казанское ханство;
- г) Ливонский орден;
- д) Крымское ханство;

1+1

6. Какие из перечисленных событий относятся к XIII в.?

- а) династическая война в Московском княжестве
- б) Невская битва
- в) образование Ливонского ордена
- г) набег на Москву хана Тохтамыша
- д) разгром монголами Юго-Западной Руси

3

7. Укажите памятники зодчества, относящиеся к истории Древнерусского государства

- а) Грановитая палата
- б) Николо-Дворищенский собор в Новгороде
- в) Благовещенский собор в Москве
- г) Успенский собор в Москве
- д) Богородице-Рождественский собор в Суздале

3

Определите по какому принципу построены логические ряды.

Кратко сформулируйте ответ.

Правильный ответ оценивается в 5 баллов

8. «Сказание о Мамаевом побоище», «Слово о погибели земли русской», «Задонщина»

сказания, во времена ордынского ига. 5

9. Князь, великий князь, царь, император.

хронологическая последовательность полномочий
которые им владели правительств. 0

10. Строгановы, Шорины, Демидовы, Никитниковы.

знатные рода. 5

11. Дреговичи, древляне, северяне.

восточно-славянские племена. 5

12. Михаил Ярославич, Иван Данилович Калита, Юрий Данилович,
Дмитрий Михайлович

князья, правившие Русью. 0

**Расставьте события в хронологической последовательности.
Ответ запишите в виде последовательности букв (например, АБВГД)
Правильный ответ оценивается в 7 баллов**

13.

- а) баскаки;
- б) «заповедные лета»;
- в) приказы;
- г) полюдье;
- д) семибоярщина

Г А В Б Г 7

14.

- а) присоединение к Москве Твери
- б) Ливонская война
- в) Куликовская битва
- г) восстание под предводительством Ивана Болотникова
- д) нашествие хана Батые на русские земли

д а в б г 0

Установите соответствие между рядами данных и запишите ответ в виде последовательности цифр и букв (например, 1а 2б 3в 4г).
Каждый полный правильный ответ оценивается в 4 балла, при выполнении 50 % задания дается 2 балла

15. Соотнесите события и даты.

События	Даты
А) Медный бунт	1) 1378 г.
Б) Поход Ермака в Западную Сибирь	2) 1649 г.
В) Учреждение патриаршества	3) 1581 г.
Г) Битва на р. Воже	4) 1589 г.
Д) Принятие Соборного уложения	5) 1662 г.

Ⓜ, 3б, 2г, 5а, 4г, 1а — 2б

16. Соотнесите цитату и ситуацию в которой они произнесены

Цитата	События
А) «Ты, князь, чужой земли ищешь, а свою покинул».	1) В связи с крещением населения Новгорода
Б) «Вече и колоколу в отчине нашей не быти. Посаднику не быти».	2) Киевляне князю Святославу после набега печенегов на Киев
В) «Вот тебе, изменник, за соль!»	3) Дмитрий Донской накануне Куликовской битвы
Г) «Крестил Путята мечом, а Добрыня огнем»	4) Иван III после присоединения Новгорода
Д) «Дай мне, отче, двух воинов из своей братии – Пересвета Александра брата его Ослябу, тем ты и сам нам поможешь»	5) Взбунтовавшиеся москвичи во время Соляного бунта в Москве

4б, 5б, 3г, 1г, 2а
+ + + + + — 4б

Работа с текстом

17. Внимательно прочтите отрывок. Заполните пропуски в тексте.
Пропущенные слова впишите под номерами в конце текста.
Каждый правильный ответ оценивается в 2 балла








Немало выражений, которые мы используем в своей речи, связаны с историей Нового времени. Так, когда хотят подчеркнуть пагубный характер недальновидных действий, вспоминая одного из французских королей, говорят 1. А когда готовы пойти на компромисс ради выгоды, произносят фразу другого правителя Франции: «2». Подчёркивая неколебимую убеждённость в чём-либо, произносят слова европейского мыслителя XVI-XVII 3. Мы повторяем всякий раз слова 4, когда хотим обрисовать человека самовлюблённого, наивно считающего себя самым главным существом во всём обществе.

Множеством «крылатых выражений» пополнила наш язык русская история. Когда мы говорим о безграмотно составленном или не имеющем юридической силы документе, то называем его 5. Человека, прикидывающегося несчастным, чтобы вызвать сочувствие жалостливых людей, до сих пор называют 6. Для обозначения особенно громкого крика мы и сейчас говорим 7. Об очень высоком человеке мы часто говорим 8, не всегда зная, что связано это выражение с временами Алексея Михайловича.

1. _____
2. _____
3. _____
4. _____
5. _____
6. _____
7. _____
8. _____

18. Заполните таблицу, указав название архитектурного памятника
(2 балла за каждый из перечисленных элементов ответа, максимальный балл за все задание – 14).



	
А	Б
	
В	Г
	
Д	Е
	
Ж	

Периода создания архитектурного памятника	XII-XIV вв.	XV-XVI вв.	XVII в.
Иллюстрация, название памятника	Е Успенский собор. + в Д	В Петропавловский. + Б Г +	А Кремль в Москве. ДК. +

10

Работа с картой(схемой)

19. За каждый правильный ответ по 2 балла.



1. Укажите имя правителя, при котором заштрихованная на карте часть вошла в состав Российского государства

Иван 3

2. Когда это произошло?

1563

3. Какой город указан под цифрой 1?

Смолеск

4. Результатом каких событий стало закрепление данной территории за Московской Русью?

5. Из-под контроля какого государства вышла указанная территория?

Речь Посполитая

2