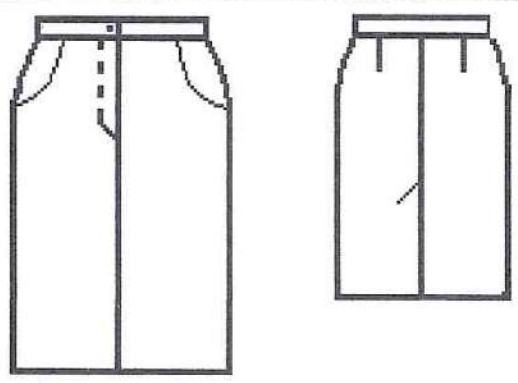
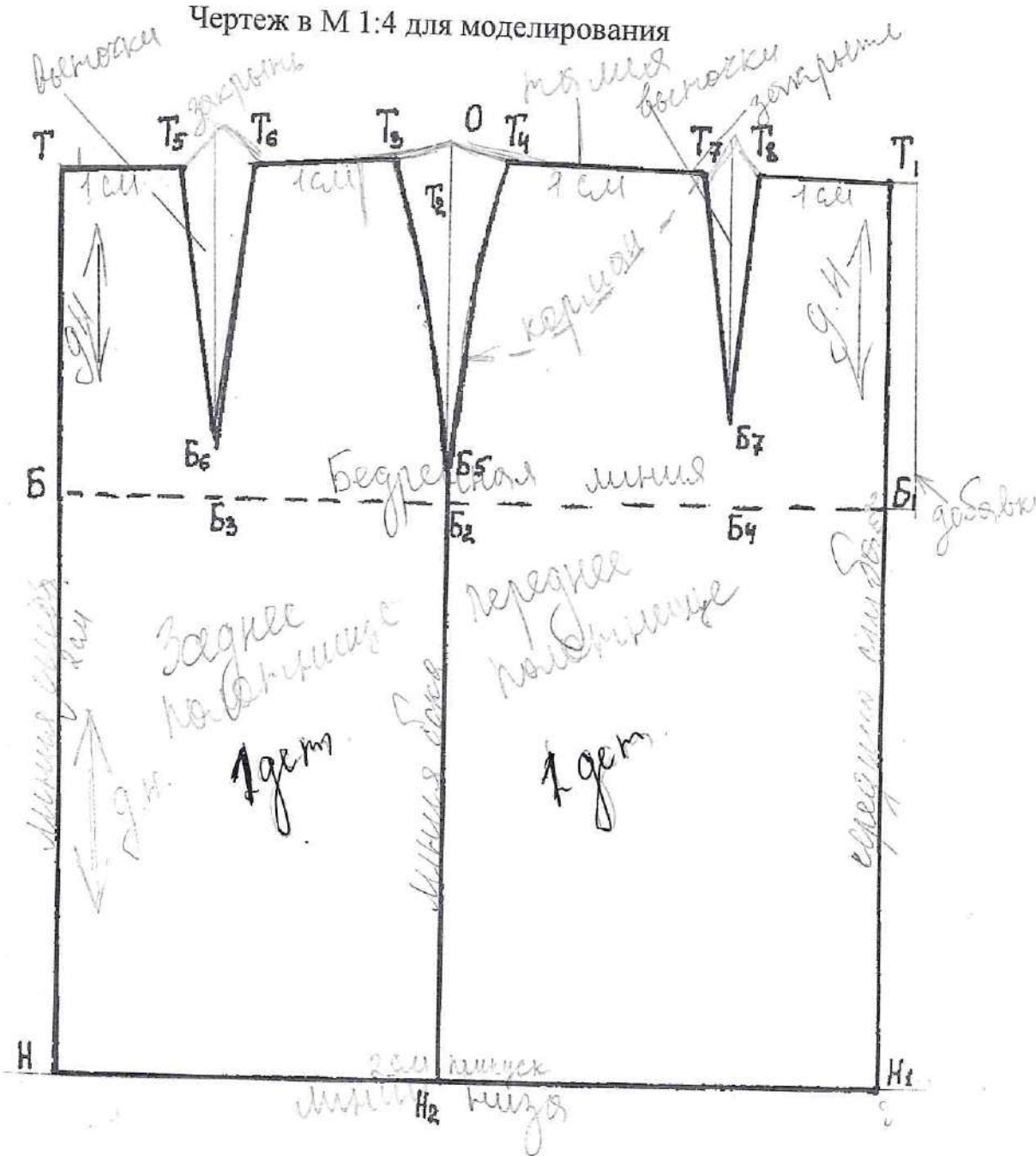


125.

**Практическое задание муниципального этапа
 Всероссийской олимпиады школьников по технологии
 в 2020-2021 учебном году
 (номинация «Культура дома, дизайн и технологии»)
 7-8 класс
 «Моделирование прямой юбки»**

Внимательно прочитайте описание модели и рассмотрите эскиз.
 В соответствии с эскизом внесите изменения в чертеж основы прямой юбки.
 Перенесите линии фасона на шаблон из цветной бумаги.
 Изготовьте из цветной бумаги детали для раскладки на ткани.
 Наклейте детали в «результат моделирования».
 Нанесите на детали выкройки необходимые надписи для раскроя.

Описание модели	Эскиз модели
<p>Прямая юбка спортивного стиля. На переднем полотнище юбки вытачки перенесены в имитируемую линию кармана. Застежка в среднем шве переднего полотнища на тесьму - молния. На заднем полотнище юбки шлица.</p>	



$$2 + 1 + 2 + 2 + 2 + 0,5 + 0,5 + 0,5 + 0,5 + 0,5 + 0,5$$

12,5

Задания муниципального этапа Всероссийской олимпиады школьников по технологии 2020-2021 учебного года (номинация «Культура дома, дизайн и технологии»)

7-8 класс

1. + Что началось раньше – массовое использование персональных компьютеров или общение в сети Интернет?

Ответ: Использование персональных компьютеров

2. + У Марины есть бусины пяти видов: квадратные белые и чёрные, круглые белые и чёрные, чёрные треугольные. Девочка решила сделать браслет и стала нанизывать их в таком порядке:



Какая бусина будет на 43-м месте, если Марина сохранит начатый порядок?

Ответ: Квадратная чёрная бусина. Нет.

3. + Расположите буквы в правильном порядке, разгадайте зашифрованное слово, получите название места возникновения русского народного промысла.

а о о л м х х

Ответ: Хохлома

4. + Охарактеризуйте технические условия на выполнение операции. Окончательная отделка изделия включает пришивание фурнитуры (пуговицы). Объясните, в каких случаях пуговицы пришивают нитками в цвет пуговицы, а в каких – в цвет ткани.

Если пуговицу необходимо скрыть и она расположена с внутренней стороны, то её пришивают нитками в цвет ткани и наоборот с внешней стороны в цвет пуговицы


5. + Выбери правильный ответ.

Наилучшую тепловую защиту человека обеспечивают ткани:

- а) шелковые;
- б) льняные;
- в) шерстяные;
- г) хлопчатобумажные.

Ответ: б

6. † Из какой ткани по волокнистому составу изготовлена блуза, если на ярлычке по уходу за изделием изображены такие значки?



Ответ: Шёлк

7. † а) Отгадайте загадку.

«Её в знакомой старой сказке
Солдат варил из топора».

Ответ: Каша

б) Какие пищевые продукты необходимы для приготовления этого блюда?

Ответ: Вода, каша, сахар или соль, разные добавки

8. — Пачка сливочного масла стоит 90 рублей. Семьям с детьми магазин делает скидку 5%. Сколько рублей стоит пачка масла для семьи с детьми?

Решение: $90 \cdot 0,95 = 85,5$ рублей

Ответ: 85,5 рублей

9. † Выбери все правильные ответы.

Признаки доброкачественности рыбы:

- а) глаза мутные;
- б) жабры светло-розовые;
- в) специфический рыбный запах;
- г) брюшко вздутое;
- д) консистенция мягкая;
- е) слизь прозрачная.

Ответ: б, в

10. † Какие блюда называют десертными?

Это те блюда сладкие, которые подаются в конце приема пищи

11. † Установите соответствие:

1	сатин	А	носовой платок
2	фланель	Б	палатка
3	маркизет	В	детская одежда
4	парча	Г	постельное бельё
5	брезент	Д	нарядная одежда

1	2	3	4	5
Г	В	А	Д	Б

12. † Разгадайте и напишите зашифрованные слова.

СТРУТОРККОН конструктор
 ЛОКАЛЕ лекало

13. † Для ремонта квартиры требуется 63 рулона обоев. Сколько пачек обойного клея нужно купить, если одна пачка клея рассчитана на 6 рулонов (1 балл)?

Решение: Методом 63 : 6 = 10,5 пачек клея понадобится

Ответ: 10,5 пачек клея

14. † О какой профессии идёт речь в отрывке из стихотворения?

... Хотелось праздничных одежд.

Но есть слова про это дело:

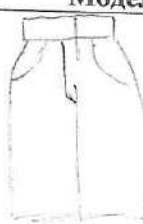
Семь раз примерь, один –
отрежь.

Ответ: портной

15. – Наибольшее количество электроэнергии в нашей стране вырабатывают электростанции: АЭС, атомные электростанции

16. Творческое задание.

1. Нарисуйте 2 модели юбок различного назначения.
2. Выполните описание моделей (укажите конструкцию, перечислите фасонные линии и детали).
3. Напишите не менее 2-х наименований видов ткани к каждой модели.
4. Предложите способы декорирования изделий.

Модель 1	Описание модели 1
	<p>2 + 3 + 2 + 2</p> <p>Прямая юбка светлая из 2-х дета- лии переднего и заднего полотнища</p>
	<p>Шмель, хлопок, декор шов</p>

но выкроит с помощью
сиски сисера вышивкой,
сшивками, лентами, пу-
говицами, вышивками

Модель 2

Описание модели 2

Юбка колеснице, состоя-
щая из 2-х деталей, под-
с и ~~под~~ клин, меньше
360°. Может выкроена
быть в шелковой ткани,
хлопковой и т.п.
Рекорирована вышивкой,
лентами, пуговицами и т.п.

