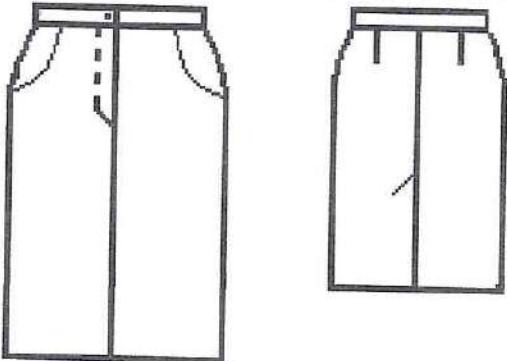


105

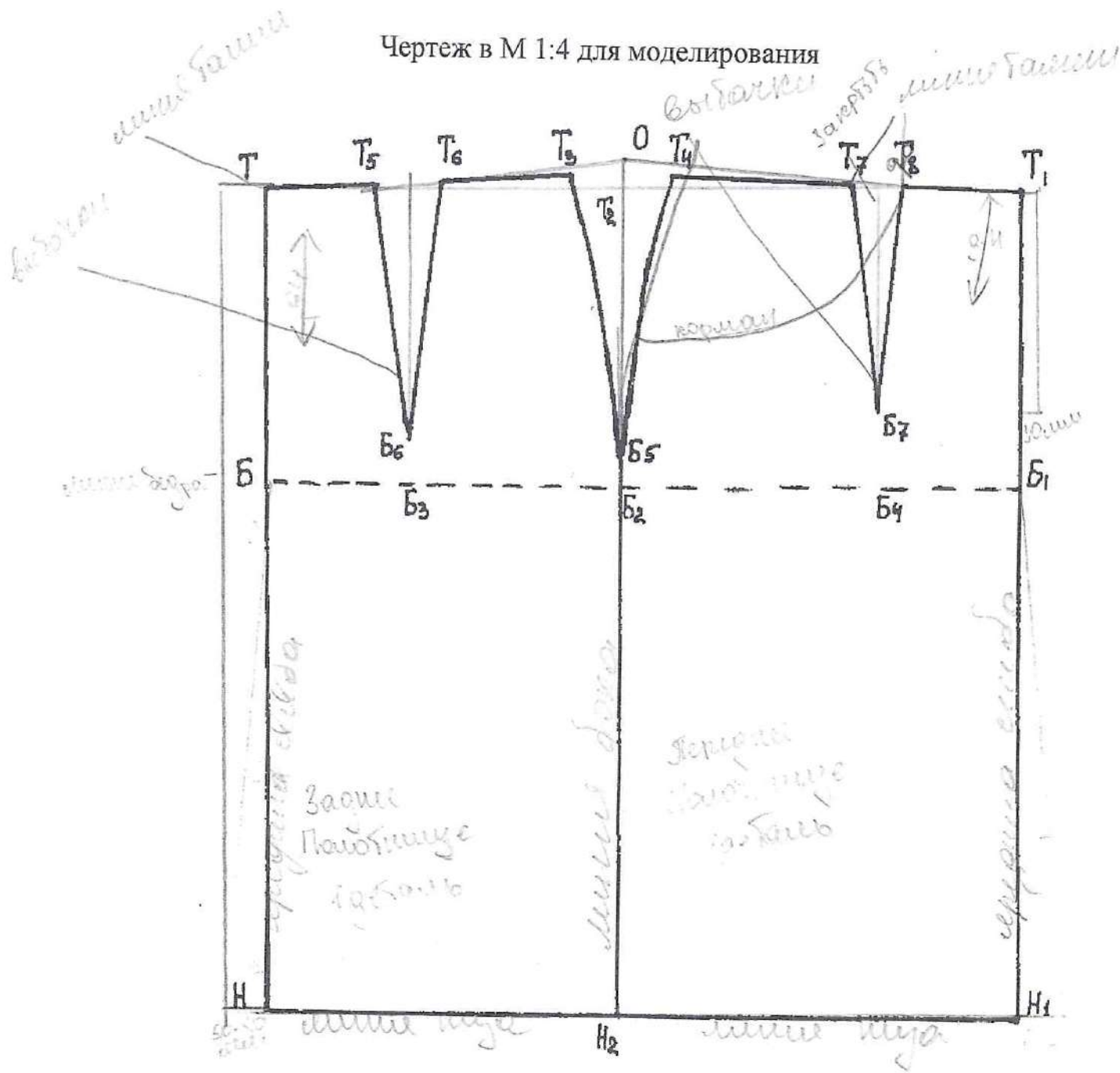
Практическое задание муниципального этапа
Всероссийской олимпиады школьников по технологии
в 2020-2021 учебном году
(номинация «Культура дома, дизайн и технологии»)
7-8 класс

«Моделирование прямой юбки»

Внимательно прочитайте описание модели и рассмотрите эскиз.
В соответствии с эскизом внесите изменения в чертеж основы прямой юбки.
Перенесите линии фасона на шаблон из цветной бумаги.
Изготовьте из цветной бумаги детали для раскладки на ткани.
Наклейте детали в «результат моделирования».
Нанесите на детали выкройки необходимые надписи для раскроя.

Описание модели	Эскиз модели
<p>Прямая юбка спортивного стиля. На переднем полотнище юбки выточки перенесены в имитируемую линию кармана. Застежка в среднем шве переднего полотнища на тесьму - молния. На заднем полотнище юбки шлица.</p>	

Чертеж в М 1:4 для моделирования



$$2 + 1 + 2 + 2 + 1$$

$$0,5 + 0,5 + 0,5 + 0,5$$

105.

Задания муниципального этапа Всероссийской олимпиады школьников по технологии 2020-2021 учебного года (номинация «Культура дома, дизайн и технологии»)

7-8 класс

1. Что началось раньше – массовое использование персональных компьютеров или общение в сети Интернет?

Ответ: персональный компьютер

2. У Марины есть бусины пяти видов: квадратные белые и чёрные, круглые белые и чёрные, чёрные треугольные. Девочка решила сделать браслет и стала нанизывать их в таком порядке:



Какая бусина будет на 43-м месте, если Марина сохранит начатый порядок?

Ответ: квадратная чёрная.

3. Расположите буквы в правильном порядке, разгадайте зашифрованное слово, получите название места возникновения русского народного промысла.

а о о л м х х

Ответ: хохлома

4. Охарактеризуйте технические условия на выполнение операции. Окончательная отделка изделия включает пришивание фурнитуры (пуговицы). Объясните, в каких случаях пуговицы пришивают нитками в цвет пуговицы, а в каких – в цвет ткани.

Если пуговица на коже, то в цвет ткани, если в дырочку, то в цвет пуговицы.

5. Выбери правильный ответ.

Наилучшую тепловую защиту человека обеспечивают ткани:

- а) шелковые;
- б) льняные;
- в) шерстяные;
- г) хлопчатобумажные.

Ответ: б

6. Из какой ткани по волокнистому составу изготовлена блуза, если на ярлычке по уходу за изделием изображены такие значки?



Ответ: шелк.

7. а) Отгадайте загадку.

«Её в знакомой старой сказке
Солдат варил из топора».

Ответ: каша

б) Какие пищевые продукты необходимы для приготовления этого блюда?

Ответ: коблер, каша, топор, вода, соль, крупа, масло

8. Пачка сливочного масла стоит 90 рублей. Семьям с детьми магазин делает скидку 5%. Сколько рублей стоит пачка масла для семьи с детьми?

Решение: $90 - 5\% = 85,5$

Ответ: 85,5

9. Выбери все правильные ответы.

Признаки доброкачественности рыбы:

а) глаза мутные;

г) брюшко вздутое;

б) жабры светло-розовые;

д) консистенция мягкая;

в) специфический рыбный запах;

е) слизь прозрачная.

Ответ: б в д е

10. Какие блюда называют десертными?

в торт, конфеты, мороженое, пудинг.

11. Установите соответствие:

1	сатин	А	носовой платок
2	фланель	Б	палатка
3	маркизет	В	детская одежда
4	парча	Г	постельное бельё
5	брезент	Д	нарядная одежда

1	2	3	4	5
Г	а	в	г	б

12. Разгадайте и напишите зашифрованные слова.

СТРУТОРККОН конструктор
 ЛОКАЛЕ лекция

13. Для ремонта квартиры требуется 63 рулона обоев. Сколько пачек обойного клея нужно купить, если одна пачка клея рассчитана на 6 рулонов (1 балл)?

Решение: $63 : 6 = 10,5$ клея нужно купить, если округлить в

Ответ: 10,5 нужно купить

14. О какой профессии идёт речь в отрывке из стихотворения?
 ... Хотелось праздничных одежд.


Но есть слова про это дело:
 Семь раз примерь, один –
 отрежь.


Ответ: портной

15. Наибольшее количество электроэнергии в нашей стране вырабатывают электростанции: трехфазных предприятий

16. Творческое задание.

- Нарисуйте 2 модели юбок различного назначения.
- Выполните описание моделей (укажите конструкцию, перечислите фасонные линии и детали).
- Напишите не менее 2-х наименований видов ткани к каждой модели.
- Предложите способы декорирования изделий.

Модель 1	Описание модели 1
	Юбка прямая, заужена; в области талии Ткань: шерсть, лён, трикотаж Декор: декоративная отстрочка молнии.

Модель 2	Описание модели 2
	<p>Юбка трапециевидная (для сарафанов и джемпер из денима) Ткань: хлопок, шёлк Декор: кружева, вышивка.</p>

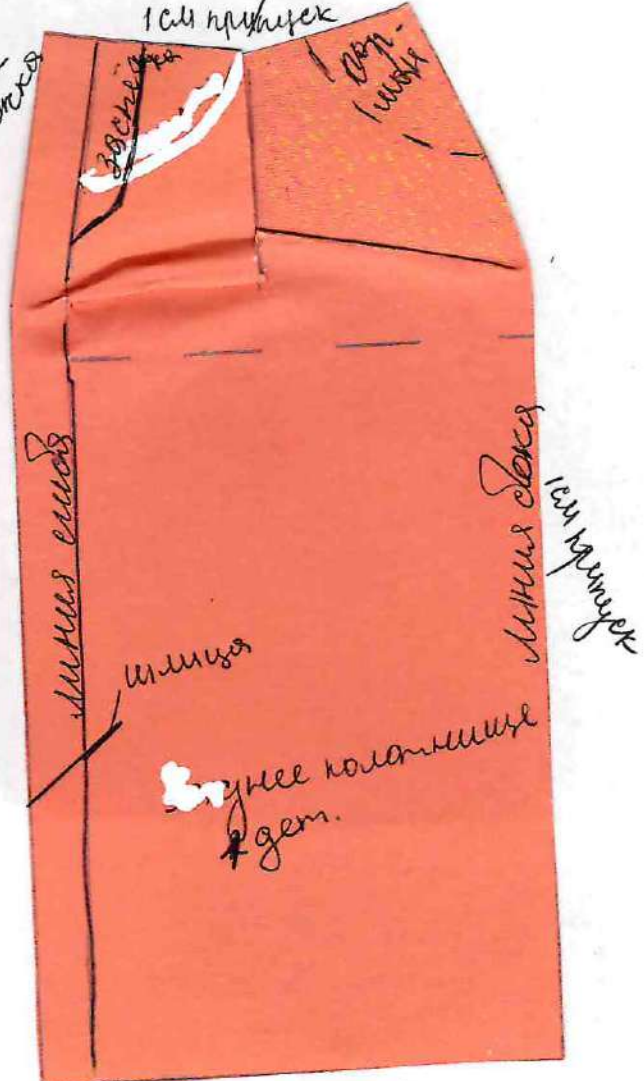
$$15 + 25 = 25 + 25 = 75$$

Волнырки
1 см прыжок



2 см прыжок

Волнырки
1 см прыжок



2 см прыжок