

Задания муниципального этапа Всероссийской олимпиады школьников по технологии 2020-2021 учебного года (номинация «Культура дома, дизайн и технологии»)

7-8 класс

1. — Что началось раньше – массовое использование персональных компьютеров или общение в сети Интернет?

Ответ: Общение в сети Интернет

2. + У Марины есть бусины пяти видов: квадратные белые и чёрные, круглые белые и чёрные, чёрные треугольные. Девочка решила сделать браслет и стала нанизывать их в таком порядке:



Какая бусина будет на 43-м месте, если Марина сохранит начатый порядок?

Ответ: чёрный квадрат

3. + Расположите буквы в правильном порядке, разгадайте зашифрованное слово, получите название места возникновения русского народного промысла.

а о о л м х х

Ответ: Холмогоры

4. + Охарактеризуйте технические условия на выполнение операции. Окончательная отделка изделия включает пришивание фурнитуры (пуговицы). Объясните, в каких случаях пуговицы пришивают нитками в цвет пуговицы, а в каких – в цвет ткани.

Если пуговица и ткань одного цвета – в цвет ткани.
Если пуговица другого цвета ткани – в цвет пуговицы.

5. + Выбери правильный ответ.

Наилучшую тепловую защиту человека обеспечивают ткани:

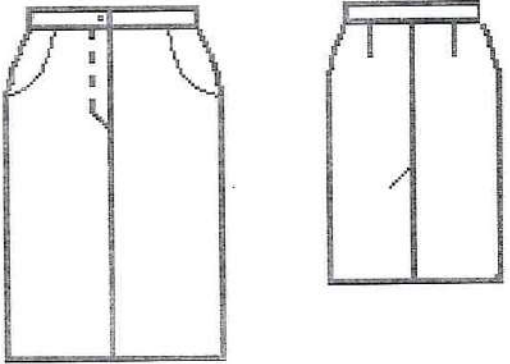
- а) шелковые;
- б) льняные;
- в) шерстяные;
- г) хлопчатобумажные.


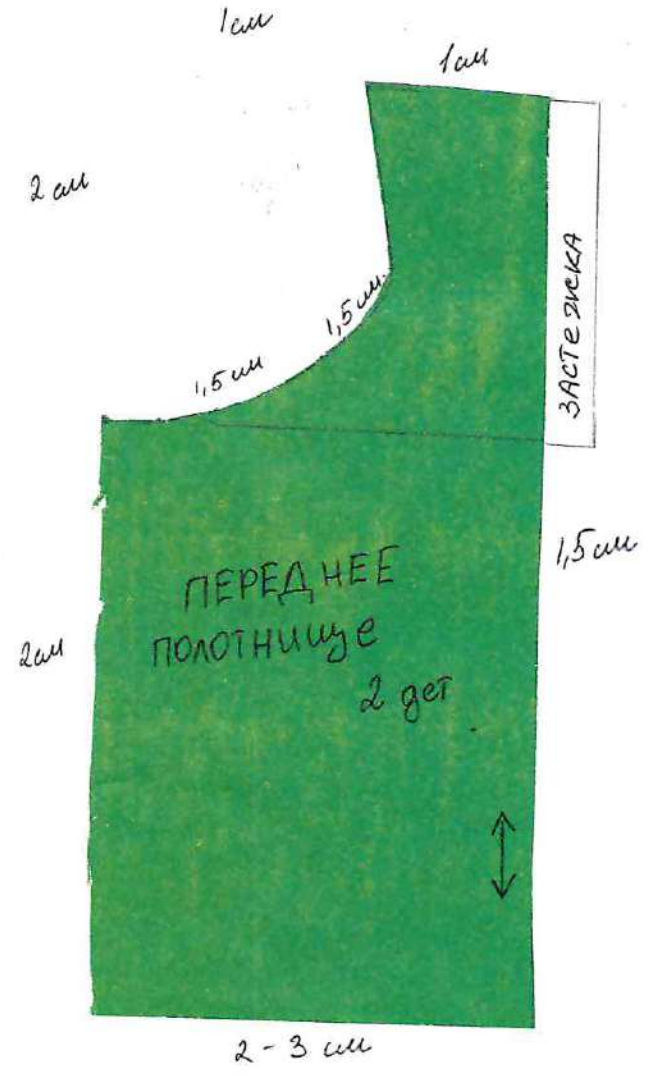
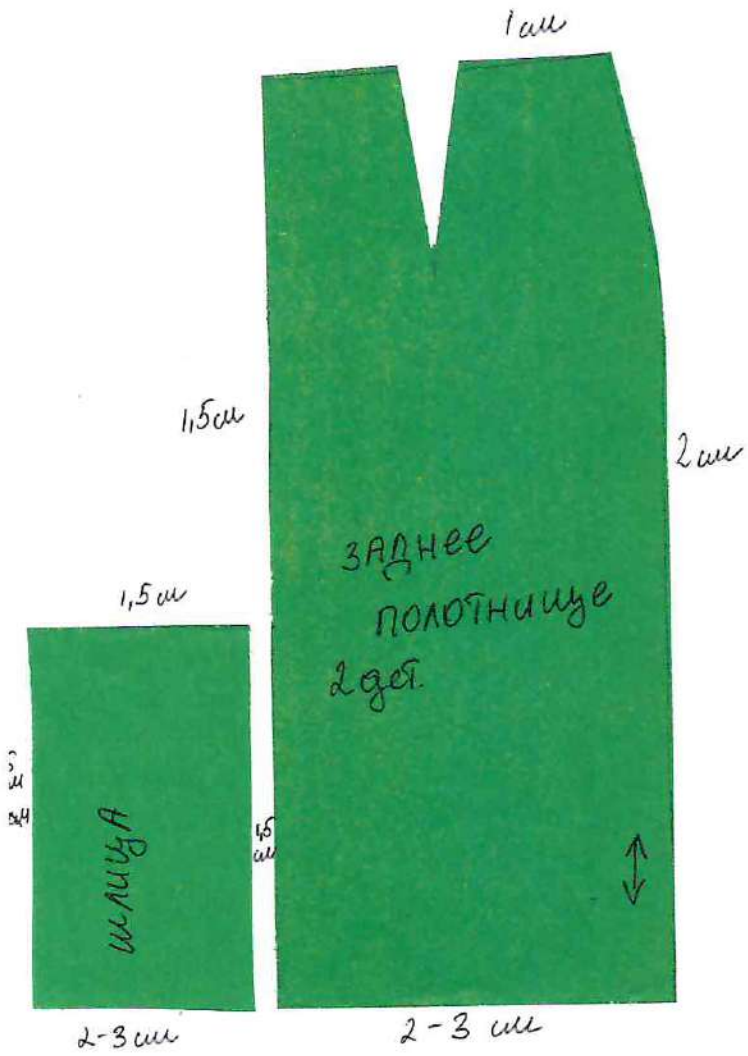
Ответ: шерстяные

Практическое задание муниципального этапа
 Всероссийской олимпиады школьников по технологии
 в 2020-2021 учебном году
 (номинация «Культура дома, дизайн и технологии»)
 7-8 класс

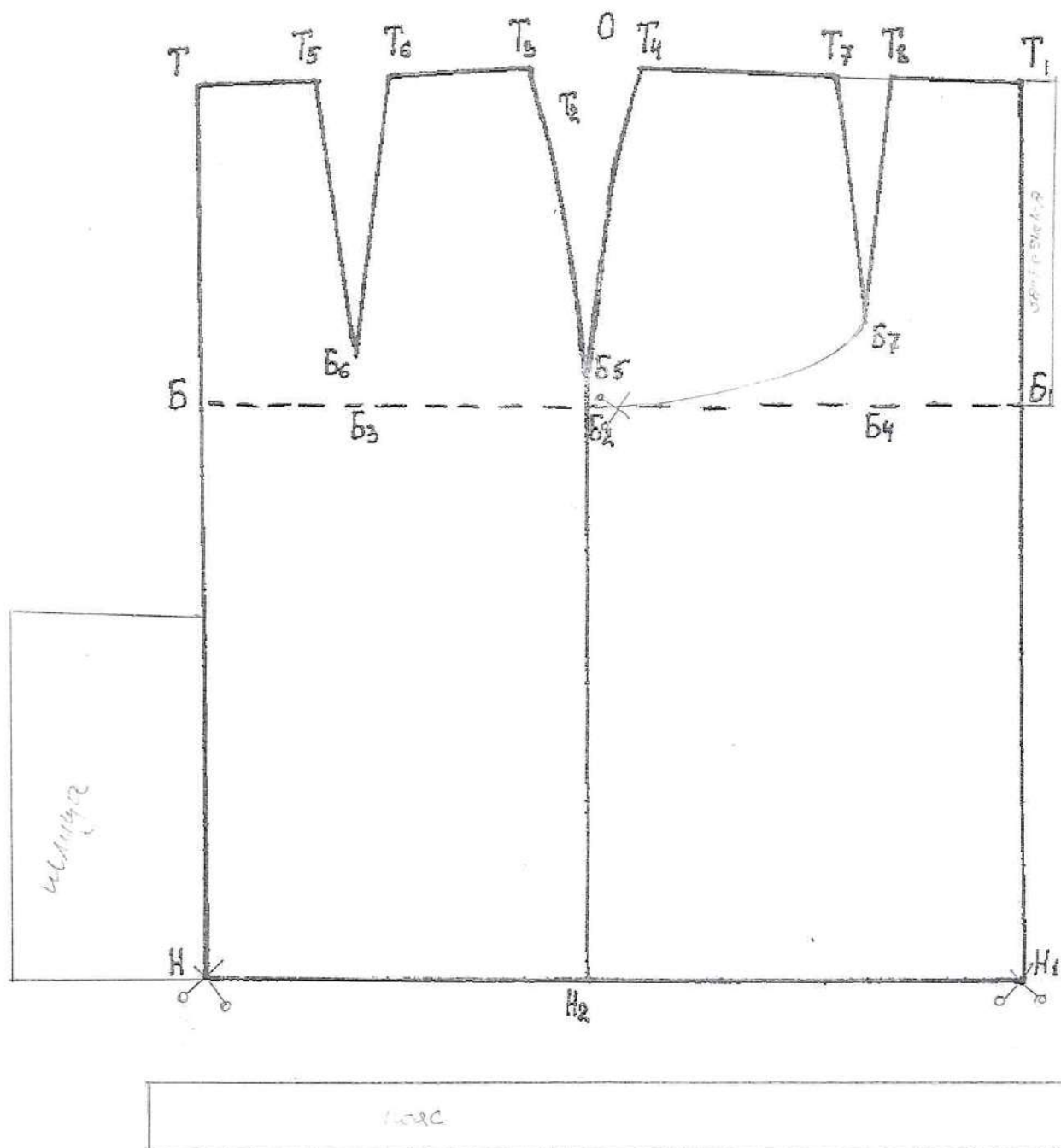
«Моделирование прямой юбки»

Внимательно прочитайте описание модели и рассмотрите эскиз.
 В соответствии с эскизом внесите изменения в чертеж основы прямой юбки.
 Перенесите линии фасона на шаблон из цветной бумаги.
 Изготовьте из цветной бумаги детали для раскладки на ткани.
 Наклейте детали в «результат моделирования».
 Нанесите на детали выкройки необходимые надписи для раскроя.

Описание модели	Эскиз модели
<p>Прямая юбка спортивного стиля. На переднем полотнище юбки вытачки перенесены в имитируемую линию кармана. Застежка в среднем шве переднего полотнища на тесьму - молния. На заднем полотнище юбки шлица.</p>	



Чертеж в М 1:4 для моделирования




$$2 + 1 + 2 + 4 + 0,5 + 0,5 + 0,5 + 0,5$$

$$0,5 + 0,5 + 0,5 + 0,5$$

150

$$0,5 + 0,5 + 0,5 + 0,5$$

	Из тканей можно взять шёлк или хлопок.
	На кокетке вышиты, нитками тоннее цвета ткани, контур цветов. Так же кокетку можно сделать блестящей с

6. + Из какой ткани по волокнистому составу изготовлена блуза, если на ярлычке по уходу за изделием изображены такие значки?



Ответ: шёлк

7. + а) Отгадайте загадку.

«Её в знакомой старой сказке
Солдат варил из топора».

Ответ: каша

б) Какие пищевые продукты необходимы для приготовления этого блюда?

Ответ: соль, вода, крупа

8. + Пачка сливочного масла стоит 90 рублей. Семьям с детьми магазин делает скидку 5 %. Сколько рублей стоит пачка масла для семьи с детьми?

Решение: ~~85~~ 90 : 100 = 0,9 100 - 5 = 95 0,9 * 95 = 85,5

Ответ: 85,5 рублей

9. — Выбери все правильные ответы.

Признаки доброкачественности рыбы:

- | | |
|--------------------------------|-------------------------|
| а) глаза мутные; | г) брюшко вздутое; |
| б) жабры светло-розовые; | д) консистенция мягкая; |
| в) специфический рыбный запах; | е) слизь прозрачная. |

Ответ: а, б

10. + Какие блюда называют десертными?

которые подаются после горячего (главного блюда)

11. — Установите соответствие:

1	сатин	А	носовой платок
2	фланель	Б	палатка

