


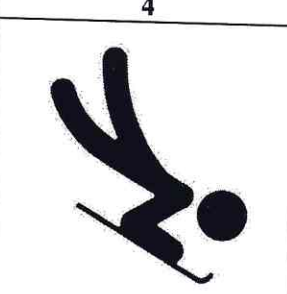


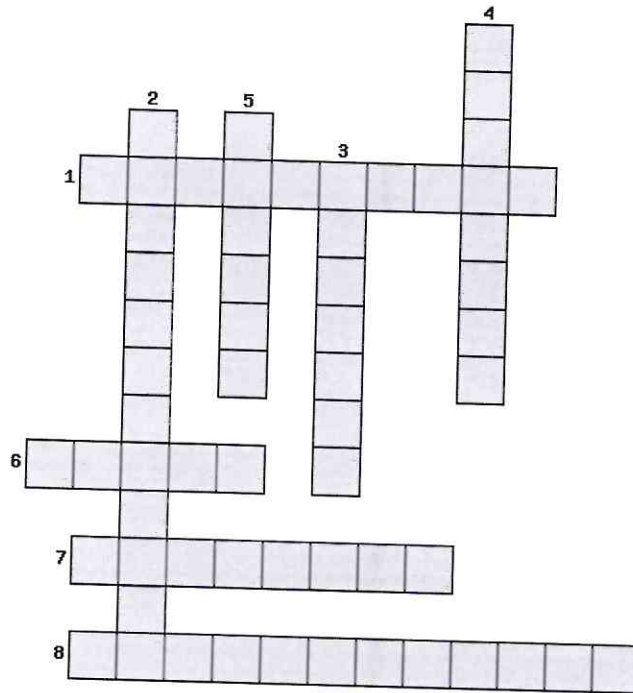


Е) Задания с графическими изображениями двигательных действий  
 28. Определите по пиктограммам, изображенные положения.

1	2	3	4
			
лаптация. Тимметка.	отжимания назад с под- нятием ног. Тимметка	всегоперт.	биатлон.

29.

Ж) Задание-кроссворд



30. Решение:

$$40 - 59,5 = 10,5$$

Ответ: 10,5 Артём.

3) Задание-задача

Оценка (слагаемые и сумма)

15,5

Подписи членов жюри